

Муниципальное образование «Гурьевский муниципальный округ»  
**ВСЕРОССИЙСКАЯ ОЛИМПИАДА ШКОЛЬНИКОВ ПО ИСТОРИИ**  
**(школьный этап)**  
 2023 – 2024 учебный год

**5 КЛАСС**

Время выполнения работы – 60 минут

Максимальный балл – 100

**Задание № 1. Выполните тест. Выберите один вариант ответа из 4-х предложенных. Не забудьте перенести ответы в бланк ответов! (10 баллов)**

- Поиском и исследованием вещественных свидетельств прошлого человечества занимается наука.  
 1) этнография 2) археология 3) хронология 4) этнология
- Зарождение религии и искусства произошло в период.  
 1) мезолита 2) энеолита 3) палеолита 4) неолита
- В ледниковый период основным занятием людей являлось.  
 1) земледелие 2) охота 3) собирательство 4) рыболовство
- Первыми орудиями труда древнейших людей были.  
 1) рубило, палка-копалка 2) лук и стрелы 3) гарпун, топор 4) ткацкий станок, плуг
- Человек современного вида появился на земле около  
 1) 60 тысяч лет назад 2) 40 тысяч лет назад 3) 20 тысяч лет назад 4) 10 тысяч лет назад

**Задание № 2. Выберите из перечисленного признаки, свидетельствовавшие об окончании истории первобытности. Запишите в бланк ответов номера признаков (6 баллов).**

- Освоение металлов
- Возникновение письменности
- Появление земледелия и скотоводства
- Основание и рост городов
- Появление религиозных верований
- Появление первых государств

**Задание № 3. По какому принципу образованы ряды (9 баллов).**

- палка-копалка, гарпун, топор
- родовая община, стадо, племя
- охота, собирательство, рыбная ловля

**Задание № 4. Вычеркните лишнее слово и объясните свой выбор (6 баллов)**

- Палка-копалка, гарпун, ~~идол~~, топор
- Мамонт, пещерный медведь, шерстистый носорог, ~~лошадь~~

**Задание № 5. Расположите изобретения первобытного человека в порядке их появления. Запишите получившуюся последовательность букв в таблицу в бланке ответов (12 баллов)**

- А) лук и стрелы      Б) каменное рубило      В) медный топор      Г) деревянная мотыга

**Задание № 6. Установи соответствие между событиями и датами и запиши ответ в таблицу в бланке ответов (12 баллов)**

СОБЫТИЕ		ДАТА	
1	В каком году область получила название Калининградской	А	1961 г.
2	Когда была принята Конституция Российской Федерации	Б	2014 г.
3	В каком году Ю. А. Гагарин полетел в космос	В	1993 г.
4	Когда состоялись Олимпийские игры в Сочи	Г	1946 г.

**Задание № 7. Вставьте пропущенные слова (8 баллов).**

Люди жили на земле более 2 миллиона лет назад.

Первый коллектив людей называется племя.

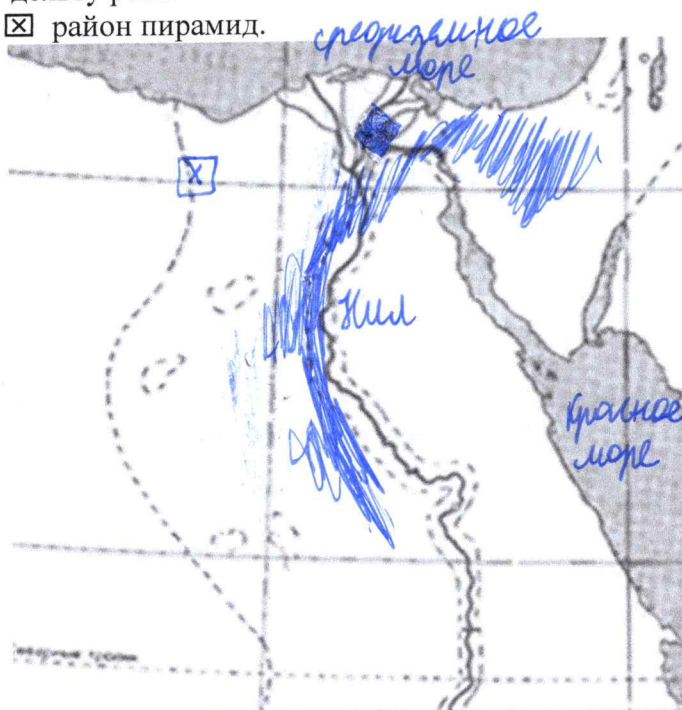
Приблизительно 40 тысяч лет назад человек стал таким же, как люди нашего времени, ученые называют его современным.

Появившиеся у первобытных людей верования - в колдовство, в душу, жизнь после смерти - называют - религия.

**Не забудьте выписать добавленные в задании № 7 слова в бланк ответов!**

**Задание №8. Выполните задания по карте. Максимально – 15 баллов.**

1. Надпишите название реки, протекающей через Египет.
2. Закрасьте предполагаемые районы земледелия в Египте.
3. Надпишите названия двух морей, ближайших к Египту.
4. Укажите значком  $\blacklozenge$  дельту реки.
5. Обозначьте значком  $\boxtimes$  район пирамид.




**Задание № 9. Решите задачи. Запишите свои вычисления и ответы в бланк ответов (16 б).**

1. Царь начал править в 23 г. до н. э., а умер в 12 г. н. э. Сколько лет он правил?
2. Какой год был раньше и на сколько раньше - 65 г. до н. э. или 40 г. н. э.?
3. Если захоронение было сделано в 80 г. до н. э. и в прошлом году археологи его обнаружили, то сколько лет оно пролежало в земле?
4. В Рим был основан в 753 г. до н. э. Сколько лет прошло от основания Рима до рождения Христа?
5. Считается, что первую пирамиду зодчий Имхотеп начал строить в 2750 г. до н. э. Последние пирамиды построены в 1700 г. до н. э. Сколько лет прошло между постройкой первой и последней пирамиды?

**Задание № 10. Ознакомьтесь с изображениями флагов городов и областей Российской Федерации. Определи, под какими номерами помещены флаги и запиши номера флагов в таблицу в бланке ответов (6 баллов).**

а) Калининградской области


б) города Калининграда




1




2




3



4



5



6

**БЛАНК ОТВЕТОВ**

<b>ШИФР</b>	<b>ИСТ-5-</b>
-------------	---------------

**Задание № 1. Выполните тест. (10 баллов).** 100

1	+	2	+	3	+	4	+	5
		артефакты						

**Задание № 2. Укажите номера признаков (6 баллов).** Ответ: 1, 2, 3, 4, 5 60

**Задание № 3. (9 баллов).** 35

- 1) судее прихода для добычи или изготовления чего-то. +
- 2) для выживания вместе. -
- 3) для еды и палеолит ископаемых. -

**Задание № 4. (6 баллов).** 45

- 1) идол не является продуктом труда + 15
- 2) Все пильчатые вымершие крабы лангосты так как она сохранилась. + 30

**Задание № 5. (12 баллов).** -35

1	2	3	4
2) -	1) -	3) -	4) +

**Задание № 6. (12 баллов).** 125

1	2	3	4
2) +	1) +	3) +	4) +

**Задание № 7. (8 баллов)**

- 1) Амьшанна, 2) Мемия, 3) Савре, Мечкыль 4) - 25

**Задание № 8. (до 15 баллов)** 125

- 1) Нил + 25
- 2) на карте
- 3) Красное и сферическое море. + 40
- 4) на карте + 35
- 5) на карте + 35

**Задание № 9. (16 баллов).** 115

- 1) 17 лет -
- 2) 65 год до н.э. на 25 лет больше чем 40 лет до н.э.
- 3) 2102 год 35
- 4) 753 год 35
- 5) 1050 лет. 35

**Задание № 10. (6 баллов).** 65

а) 1	б) 3
+	+

**Таблица результатов:**

Задание №	1	2	3	4	5	6	7	8	9	10	Всего
Мак балл	10	6	9	6	12	12	8	15	16	6	100
Баллы ученика	10	0	3	4	3	12	2	12	11	6	63

Подписи членов жюри: