

365.

Шифр

Г-8-2

Всероссийская олимпиада школьников по географии. 2023-2024 учебный год.

Школьный этап. 8 класс

Начинать работу можно с любого задания, однако, мы рекомендуем выполнять задания в том порядке, в котором они даны. Если какое-то задание вызывает у вас затруднение, пропустите его и постарайтесь выполнить те, в ответах на которые вы уверены. К пропущенным заданиям можно будет вернуться, если у вас останется время.

Общее время выполнения работы - 90 минут

Максимальная сумма баллов – 64

Во время выполнения заданий не допускается использование атласов и других источников информации.

Теоретический тур

Задание 1. (6 баллов)

Ниже перечислены утверждения об одной из частей света. Определите, о какой части света идёт речь, и укажите номера двух лишних утверждений. К каким частям света относятся лишние утверждения? Назовите пункт, о котором говорится в утверждении № 6.

1. В этой части света обитает большая панда.
2. В этой части света занимался исследованиями Н.М.Пржевальский.
- ~~3.~~ 3. В этой части света находится мыс Рока.
- ~~4.~~ 4. В этой части света обитает страус нанду.
5. В этой части света самая высокая численность населения.
6. В этой части света находится пункт, где отмечено максимальное количество осадков на Земле.
7. В этой части света находится отметка высоты 8848 м.

Часть света Азия 1

Лишнее утверждение: номер 3 1 часть света С. Америка 1

Лишнее утверждение: номер 4 1 часть света Австралия

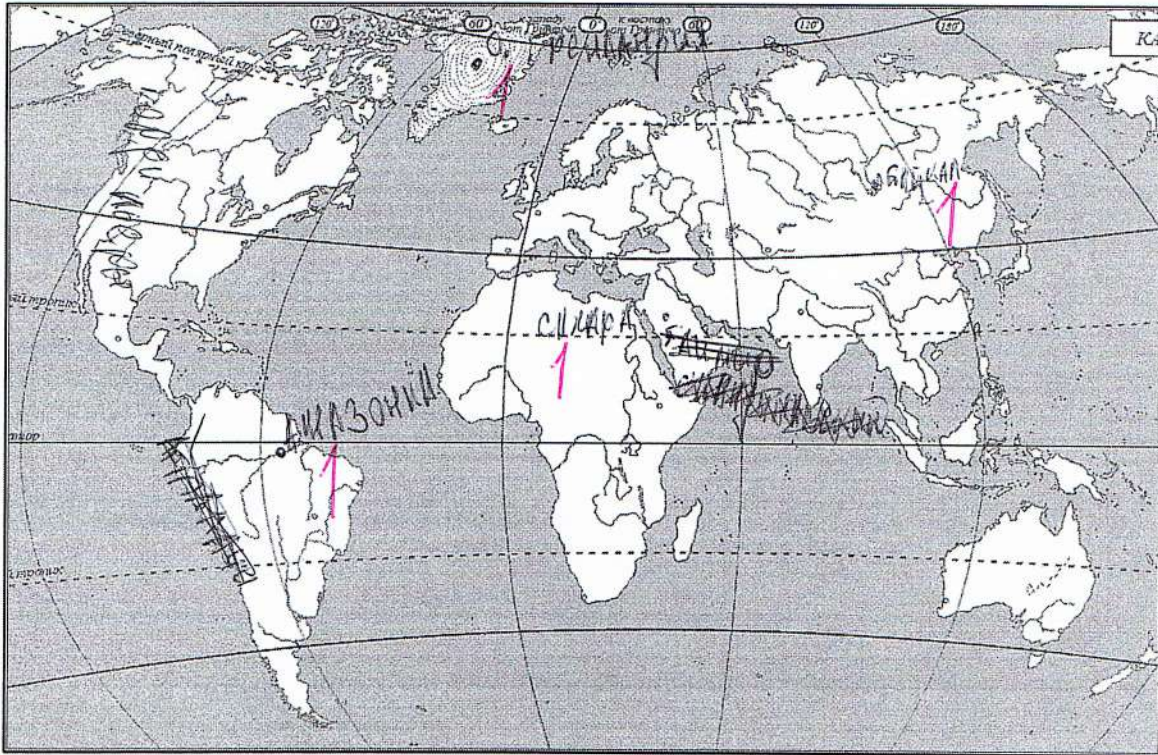
Пункт Гро нки

45

Задание 2. (14 баллов)

Вспомните природные рекорды мира. На контурной карте напишите названия географических объектов-рекордсменов:

- -самого глубокого озера
- самого большого по площади озера
- высочайшего водопада
- самого высокого действующего вулкана
- -крупнейшего острова
- -самой длинной и многоводной реки
- самой высокой горной системы
- самого большого моря
- -самой длинной горной системы
- -самого большого полуострова
- -крупнейшей пустыни



Как называется крупнейшее государство самого большого полуострова?

Какому государству принадлежит самый большой остров?

Португалия

В какой стране находится устье самой длинной реки?



Задание 3. (3 балла)

В каком направлении дуют ночные бризы и почему они образуются на берегах морей?

Задание 4. (9 баллов)

Дополните таблицу, выбрав названия растений из списка: виктория, раффлезия, лиственница, эвкалипт, саксаул, баобаб, финиковая пальма, кокосовая пальма, ковыль. Названия растений, не включённых в таблицу, подпишите под фотографиями.

| № | Некоторые особенности растений | Названия растений |
|---|---|--------------------|
| 1 | Вечнозелёное дерево, типичное для Австралии. Из листьев получают масло, применяемое в медицине. | КОКОСОВАЯ ПАЛЬМА |
| 2 | Многолетняя трава, относящаяся к злаковым и распространённая в степях. | КОВЫЛЬ 1 |
| 3 | Древесное или кустарниковое растение пустынь Азии, хороший закрепитель песков. Зелёные веточки – корм для верблюдов и овец. | САКСАУЛ 1 |
| 4 | Хвойное дерево с твёрдой прочной древесиной. Осенью хвоя опадает. Самое распространённое дерево в России. | ЛИСТВЕННИЦА 1 |
| 5 | Водное растение Южной Америки. Листья с загнутыми краями диаметром до 2 м выдерживают груз до 50 кг. | ЭВКАЛИПТ |
| 6 | Растение тропиков и субтропиков Африки и Азии. Плоды съедобны. | ФИНИКОВАЯ ПАЛЬМА 1 |
| 7 | Растёт в тропиках на морских побережьях, на островах. Возделывают главным образом для получения копры. | ВИКТОРИЯ |



А) РАФЛЕЗИЯ 1

Б) БАОБАБ 1

126

Задание 5. (16 баллов)

1. В каждом из двух списков найдите и выпишите по 7 понятий (это элементы духовной и материальной культуры, имена, представители органического мира и т.п.), относящихся к одной стране. Определите страны.

1) Сари, хинди, Тадж-Махал, птица киви, Рабиндранат Тагор, рупия, Хоккайдо, «Махабхарата», гора Кука, Махатма Ганди, кимоно, Акира Куросава

Сари, хинди, птица киви, Рабиндранат Тагор, рупия, «Махабхарата», Махатма Ганди, Тадж-Махал

Страна Индия 1

2) Суоми, маори, Хельсинки, Лапландия, Веллингтон, Ян Сибелиус, иена, саамы, гаттерия, «Калевала», Инариярви, хокку

Суоми, маори, иена, саамы, гаттерия, Инариярви, хокку

Страна Финляндия 1

2. Слова, оставшиеся в обоих списках, объедините, а затем разделите на две группы и укажите названия островных государств, с которыми эти понятия связаны.

1) Сари, Хоккайдо, гора Кука, кимоно, Акира Куросава

Островное государство Япония 1

2) Хельсинки, Лапландия, Веллингтон, Ян Сибелиус, Калевала

Островное государство Финляндия 1

106

Тестовый тур

На каждый вопрос даны четыре варианта ответов.

Выберите только один правильный и внесите его в матрицу ответов.

Максимально 16 баллов, по 1 баллу за каждый правильный ответ.

1. Выберите фамилию первооткрывателя Антарктиды:

- а) Р.Амундсен
- б) И.Крузенштерн
- в) Т.Хейердал
- г) Ф.Беллинсгаузен

2. Какое полезное ископаемое добывают в Калининградской области?

- а) каменный уголь
- б) бокситы
- в) торф
- г) медные руды

3. Выберите верное утверждение о реке Неман:

- а) Река Шешупе является притоком Немана.
- б) Неман впадает в Калининградский залив.
- в) Исток Немана находится в Калининградской области.
- г) На Немане расположен город Черняховск.

4. Точка с какими координатами наиболее удалена от экватора?

- а) 35° ю.ш. 55° з.д.
- б) 30° с.ш. 45° в.д.
- в) 55° с.ш. 60° в.д.
- г) 60° с.ш. 35° в.д.

5. В Южной Америке расположено государство:

- а) Боливия
- б) ~~Ботсвана~~
- в) ~~Ливия~~
- г) ~~ЮАР~~

6. Муссонные дожди часто вызывают наводнения на реке:

- а) Хуанхэ
- б) ~~Енисей~~
- в) Дунай
- г) ~~Тигр~~

7. Какой стране принадлежат Канарские острова?

- а) Марокко
- б) ~~Португалия~~
- в) ~~Алжир~~
- г) ~~Испания~~

8. Холодным течением является:

- а) ~~Бразильское~~
- б) ~~Перуанское~~
- в) Гольфстрим
- г) Куроисио

9. Какой остров раньше носил название Цейлон?

- а) Шри-Ланка б) ~~Исландия~~ в) Сахалин г) Хоккайдо

10. Как называется самая восточная точка Северной Америки?

- а) Кабу-Бранку б) Сент-Чарльз
в) Байрон г) Рас-Хафун

11. На каком острове находится Джакарта?

- а) Ява б) ~~Суматра~~ в) ~~Калимантан~~ г) ~~Сулавеси~~

12. Как называется столица Канады?

- а) ~~Монреаль~~ б) ~~Квебек~~ в) Ванкувер г) Оттава

13. Какая пустыня является береговой?

- а) Гоби б) Намиб в) Каракумы г) Такла-Макан

14. Какое озеро Африки расположено южнее других?

- а) Рудольф б) Танганьика в) Ньяса г) Чад

15. Берега какого материка омывает море Уэдделла?

- а) Северная Америка б) Евразия в) Австралия г) Антарктида

16. Где обитает коала?

- а) Африка б) Южная Америка в) Австралия г) Евразия

Матрица для записи ответов

| | | | | | | | | | |
|----|----|----|----|----|----|----|----|----|----|
| 1 | 2 | 3 | 4 | 5 | 6 | 7 | 8 | 9 | 10 |
| г+ | б+ | а+ | а- | а+ | а+ | а- | б- | б- | б+ |

| | | | | | |
|----|----|----|----|----|----|
| 11 | 12 | 13 | 14 | 15 | 16 |
| б- | г+ | б+ | г | г+ | б+ |